

Путешествие в страну математики



ПОСЧИТАЙ ЦИФРЫ В ПРЯМОМ ПОРЯДКЕ.
ПОСЧИТАЙ В ОБРАТНОМ ПОРЯДКЕ.
НАЧНИ СЧИТАТЬ С НАЗВАННОГО ЧИСЛА.
НАЗОВИ СОСЕДЕЙ ЧИСЛА...



ПЕРЕСЧИТАЙ КАРТИНКИ.

КАКИМ ПО СЧЕТУ СТОИТ ВЕРТОЛЕТ? АВТОБУС? ГРУЗОВИК?
НА КАКОМ МЕСТЕ СТОИТ ВЕЛОСИПЕД? ПАРХОД? ВОЗДУШНЫЙ ШАР?

1 2 3 4 5 6 7 8 9 10




ЧТО БУДЕТ, ЕСЛИ К ПЯТИ ПРИБАВИТЬ ОДИН?
ЕСЛИ ОТ СЕМИ ОТНЯТЬ ОДИН?
КАК ПОЛУЧИТЬ ЧИСЛО ВОСЕМЬ, ЕСЛИ ЕСТЬ ЧИСЛО ДЕВЯТЬ?

1 2 3 4 5 6 7 8 9 10



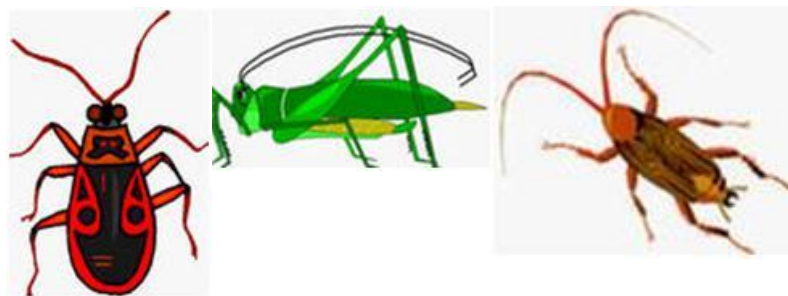

СОСТАВЬ И РЕШИ ЗАДАЧУ



СОСТАВЬ РЕШИ ЗАДАЧУ НА СЛОЖЕНИЕ

$$3+4=...$$

$$5+3=...$$



СОСТАВЬ И РЕШИ ЗАДАЧУ НА ВЫЧИТАНИЕ

$$6-2= \dots$$



СОСТАВЬ И РЕШИ ЗАДАЧУ НА ВЫЧИТАНИЕ

$$7-3= \dots$$









ВЫБЕРИ ЛЮБУЮ ЦИФРУ. НАЗОВИ ДЕНЬ НЕДЕЛИ, КОТОРЫЙ ЕЙ СООТВЕТСТВУЕТ
ЕСЛИ СЕГОДНЯ СРЕДА, КАКОЙ ДЕНЬ БУДЕТ ЗАВТРА?
СЕГОДНЯ ЧЕТВЕРГ, ЗНАЧИТ ВЧЕРА БЫЛ...
СЕГОДНЯ СУББОТА, А ПОЗАВЧЕРА БЫЛ...?






НАЗОВИ ГЕОМЕТРИЧЕСКИЕ ФИГУРЫ

КАКИЕ ФИГУРЫ ОТНОСЯТСЯ К МНОГОУГОЛЬНИКАМ? СКОЛЬКО ЗДЕСЬ
МНОГОУГОЛЬНИКОВ?


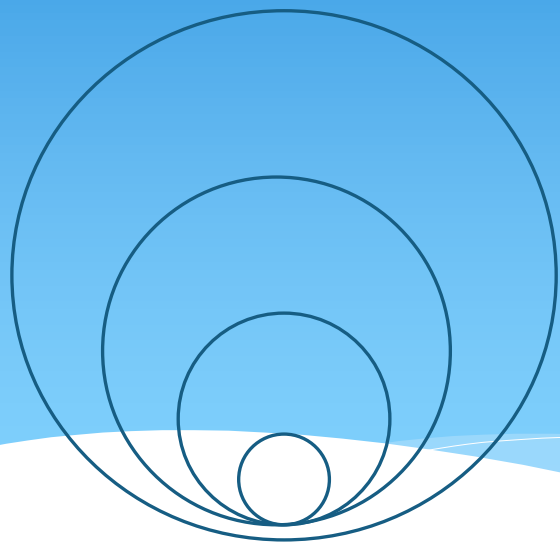
ЧЕМ ОТЛИЧАЮТСЯ КРУГ И ОВАЛ? ЧЕМ ОНИ ПОХОЖИ?



КАКАЯ ФИГУРА РАСПОЛОЖЕНА В ЦЕНТРЕ?
ГДЕ НАХОДИТСЯ ТРЕУГОЛЬНИК?
В ЛЕВОМ ВЕРХНЕМ УГЛУ НАХОДИТСЯ ...
ПЯТИУГОЛЬНИК РАСПОЛОЖЕН В ...
КАКОЙ ПРЯМОУГОЛЬНИК НАХОДИТСЯ ВНИЗУ?




Где кругов больше? СПРАВА ИЛИ СЛЕВА?












ПОСЧИТАЙ, СКОЛЬКО ЗДЕСЬ ТРЕУГОЛЬНИКОВ?








Сколько здесь квадратов?



Заполни таблицу





МОЛОДЦЫ!